













Ens: Prof. Friedrich Eisenbrand
 Algèbre Linéaire Avancée II - MA
 25 juin 2024
 Durée: 210 minutes

Student 1

SCIPER: 999XXX

Attendez le début de l'épreuve avant de tourner la page. Ce document est imprimé recto-verso, il contient 20 pages, les dernières pouvant être vides. Ne pas dégrafer.

- Posez votre carte d'étudiant sur la table.
- **Aucun** document n'est autorisé.
- L'utilisation d'une **calculatrice** et de tout outil électronique est interdite pendant l'épreuve.
- Pour les questions à **choix multiple**, on comptera :
 - +2 points si toutes les réponses correctes et aucune réponse incorrecte sont inscrites,
 - 0 point si il n'y a aucune réponse inscrite,
 - 1 autrement.
- Pour les questions de type **vrai-faux**, on comptera :
 - +1 point si la réponse est correcte,
 - 0 point si il n'y a aucune ou plus d'une réponse inscrite,
 - 1 point si la réponse est incorrecte.
- Utilisez un **stylo** à encre **noire ou bleu foncé** et effacez proprement avec du **correcteur blanc** si nécessaire.
- Si une question est erronée, l'enseignant se réserve le droit de l'annuler.

Respectez les consignes suivantes Observe this guidelines Beachten Sie bitte die unten stehenden Richtlinien		
choisir une réponse select an answer Antwort auswählen	ne PAS choisir une réponse NOT select an answer NICHT Antwort auswählen	Corriger une réponse Correct an answer Antwort korrigieren
  		 
ce qu'il ne faut PAS faire what should NOT be done was man NICHT tun sollte		
     		

Première partie, questions à choix multiple

Pour chaque question marquer la case correspondante à la réponse correcte sans faire de ratures. Certaines questions admettent **plusieurs** bonnes réponses.

Question [MCQ-01] Soient

$$\begin{aligned} f(x) &= 2 \cdot x^{304} + 3 \cdot x^{105} + x^2 + 2 \quad \text{et} \\ g(x) &= (x^3 - x)(x - 2) \end{aligned}$$

deux polynômes de $\mathbb{Z}_5[x]$. On considère la division avec reste

$$f(x) = q(x)g(x) + r(x),$$

où $r(x) = a_3x^3 + a_2x^2 + a_1x + a_0 \in \mathbb{Z}_5[x]$. Quel est le coefficient a_2 ?

- $a_2 = 0$
 $a_2 = 1$
 $a_2 = 2$
 $a_2 = 3$
 $a_2 = 4$

Question [SCQ-02] Soient $A, B \in \mathbb{C}^{n \times n}$. Lesquelles des assertions suivantes sont correctes?

- $\text{rang}(A \cdot B) \geq \min\{\text{rang}(A), \text{rang}(B)\}$.
 $\text{rang}(A \cdot B) \leq \text{rang}(A) \cdot \text{rang}(B)$.
 Les polynômes caractéristiques de $A \cdot B$ et $B \cdot A$ sont les mêmes.
 $A \cdot B$ et $B \cdot A$ admettent la même forme normale de Jordan, à permutation des blocs près.
 Aucune des autres réponses n'est correcte.

Question [SCQ-03]

Soit $\phi \in \mathbb{C} \setminus \{0\}$ une racine du polynôme $p(x) = x^2 + 2x + 2 \in \mathbb{Q}[x]$. Quel est l'inverse $1/\phi$ de ϕ :

- $-\frac{1}{2}\phi - 1$
 $\phi + 1$
 $\phi - \frac{1}{2}$
 $\phi^2 + 2\phi$
 Aucune des autres réponses n'est correcte.

CATALOGUE

Question [MCQ-04] Soit $A \in \mathbb{C}^{5 \times 5}$ et $p_A(x) = (-1)(x^3 - 2) \cdot (x^2 - 4)$ son polynôme caractéristique. Soit $\text{rang}(A - \sqrt[3]{2} \cdot I_5) = 4$. Lesquelles sont des formes normales de Jordan de A :

$\begin{pmatrix} \sqrt[3]{2} & & & & \\ & \sqrt[3]{2} & 1 & & \\ & & \sqrt[3]{2} & & \\ & & & 2 & \\ & & & & 2 \end{pmatrix}$

$\begin{pmatrix} \sqrt[3]{2} & & & & \\ & \sqrt[3]{2} & 1 & & \\ & & \sqrt[3]{2} & & \\ & & & -2 & \\ & & & & 2 \end{pmatrix}$

$\begin{pmatrix} \sqrt[3]{2} & & & & \\ & \sqrt[3]{2} & & & \\ & & \sqrt[3]{2} & & \\ & & & 2 & 1 \\ & & & & 2 \end{pmatrix}$

Aucune des matrices est une forme normale de Jordan de A .

Question [MCQ-05] On considère

$$\min_{x \in \mathbb{R}^n} \|Ax - b\|^2 \text{ et } \min_{x \in \mathbb{R}^n} \|Ax - b'\|^2 \quad (1)$$

où $A \in \mathbb{R}^{m \times n}$ et $b, b' \in \mathbb{R}^m$. Soient $S \subseteq \mathbb{R}^n$ et $S' \subseteq \mathbb{R}^n$ les solutions (optimales) des deux problèmes (1) respectivement. Lesquelles des assertions suivantes sont correctes?

- Si $A^T(b - b') = 0$, $x \in S$ et $x' \in S'$, alors $x = x'$.
- Si $A^T(b - b') = 0$, alors $S = S'$.
- Si $S = S'$, alors $A^T(b - b') = 0$.
- Si $A^T(b - b') = 0$ et si $x \in S$ et $x' \in S'$ sont de norme minimale $\|\cdot\|_2$ respectivement, alors $x = x'$.
- Aucune des autres réponses n'est correcte.

Question [MCQ-06]

Soit V un espace vectoriel sur K de dimension finie muni d'une forme bilinéaire symétrique $\langle \cdot, \cdot \rangle$. Quelles assertions sont correctes:

Si $v \in V \setminus \{0\}$ t.q. $\langle v, v \rangle \neq 0$, alors

$$V = \text{span}\{v\} \oplus H, \text{ où } H = \{h \in V : \langle h, v \rangle = 0\}.$$

Ici le symbole \oplus dénote la somme directe.

- S'il existe $v \in V \setminus \{0\}$ t.q. $\langle v, v \rangle = 0$, alors $\langle \cdot, \cdot \rangle$ est dégénérée.
- Si $\langle v, v \rangle \neq 0$ pour tout $v \in V \setminus \{0\}$, alors $\langle \cdot, \cdot \rangle$ est non-dégénérée.
- Si $\langle v, v \rangle \neq 0$ pour tout $v \in V \setminus \{0\}$, alors V possède une base orthogonale.
- Aucune des autres assertions est vraie.

Deuxième partie, questions du type Vrai ou Faux

Pour chaque question, marquer (sans faire de ratures) la case VRAI si l'affirmation est **toujours vraie** ou la case FAUX si elle **n'est pas toujours vraie** (c'est-à-dire si elle peut être fausse).

Question [TF-01] Toute matrice $A \in \mathbb{Q}^{n \times n}$ t.q. son polynôme caractéristique se laisse écrire comme

$$p_A(x) = (-1)^n p_1(x) \cdots p_k(x)$$

où les $p_i(x) \in \mathbb{Q}[x]$ sont irréductibles, unitaires et distincts ($p_i(x) \neq p_j(x)$, si $i \neq j$) est diagonalisable sur \mathbb{C} .

VRAI FAUX

Question [TF-02] Soit V un espace vectoriel de dimension finie sur un corps K et soit

$$\langle \cdot, \cdot \rangle : V \times V \longrightarrow K$$

une forme bilinéaire symétrique, non dégénérée. Soient $v \in V$ et $H \subseteq V$ un sous-espace de V . S'il existe un vecteur $u \in H$ t.q.

$$\langle v - u, h \rangle = 0 \quad \forall h \in H,$$

alors il est unique.

VRAI FAUX

Question [TF-03] Soient

$$A = \begin{pmatrix} a_1^T \\ \vdots \\ a_m^T \end{pmatrix} \in \mathbb{R}^{m \times n},$$

$\lambda_1 \geq \cdots \geq \lambda_n$ les valeurs propres de $A^T A$ et $k \in \mathbb{N}_+$ et $k \leq \min\{m, n\}$. Si $\lambda_1 > \cdots > \lambda_k$, le meilleur sous-espace approximatif de dimension $\leq k$ des points $a_1, \dots, a_m \in \mathbb{R}^n$ est unique.

VRAI FAUX

Question [TF-04] Soit $A \in \mathbb{R}^{n \times n}$ une matrice symétrique avec valeurs propres $\lambda_1 \geq \lambda_2 \geq \cdots \geq \lambda_n$. Si $\lambda_1 > \lambda_2$, alors la solution optimale du problème

$$\max_{x \in S^{n-1}} x^T A x$$

est unique.

VRAI FAUX

Question [TF-05] Soit $A \in \mathbb{R}^{n \times n}$ et $A^+ \in \mathbb{R}^{n \times n}$ la matrice pseudo-inverse de A . Alors A et A^+ sont semblables.

VRAI FAUX

CATALOGUE

Question [TF-06] Soit V un espace vectoriel sur K et $N : V \rightarrow V$ un endomorphisme nilpotent, c.à.d. il existe un $i \in \mathbb{N}$ t.q. $N^i(v) = 0$ pour tout $v \in V$. Soient $x, y \in V$ et $n \in \mathbb{N}_+$ t.q. $y = x + N(x) + 2N^2(x) + \dots + n \cdot N^n(x)$.

Alors les éléments de l'orbite de x et ceux de l'orbite de y engendrent le même sous-espace de V .

VRAI FAUX

Question [TF-07] Soit $A \in \mathbb{C}^{n \times n}$ et $n \in \mathbb{N}$ t.q. A^n est diagonalisable. Alors A est diagonalisable.

VRAI FAUX

Question [TF-08] Aucun polynôme $p(x) \in \mathbb{R}[x] \setminus \{0\}$ t.q. $\deg(p) \geq 3$ est irréductible.

VRAI FAUX

Question [TF-09] Soit

$$A = \begin{pmatrix} 6 & 15 & 9 \\ 12 & 21 & 30 \end{pmatrix} \in \mathbb{Z}^{2 \times 3}.$$

La forme normale de Smith de A est la matrice

$$\begin{pmatrix} 1 & 0 & 0 \\ 0 & 3 & 0 \end{pmatrix}.$$

VRAI FAUX

Question [TF-10] Soit $n \geq 2$ et $A \in \mathbb{Z}^{n \times n}$ t.q. toutes composantes sont égaux à 1 ($a_{i,j} = 1, 1 \leq i, j, \leq n$). La forme normale d'Hermite de la matrice

$$100 \cdot A - I_n$$

est I_n .

VRAI FAUX

Question [TF-11] Tout polynôme $p \in \mathbb{Q}[x] \setminus \{0\}$ de degré impair est réductible.

VRAI FAUX

Question [TF-12] Soient K un corps et $A, B \in K^{n \times n}$. Les matrices

$$\begin{pmatrix} A \cdot B & 0 \\ B & 0 \end{pmatrix} \in K^{2n \times 2n} \quad \text{et} \quad \begin{pmatrix} 0 & 0 \\ B & BA \end{pmatrix} \in K^{2n \times 2n}$$

sont semblables.

VRAI FAUX

CATALOGUE

Question [TF-13] Soient $v_1, \dots, v_k \in \mathbb{C}^n \setminus \{0\}$ et $N \in \mathbb{C}^{n \times n}$ une matrice nilpotente. Pour $x \in \mathbb{C}^n \setminus \{0\}$ on définit $n_x = \max\{i \in \mathbb{N} : N^i(x) \neq 0\}$ et on dénote l'orbite de x par $\text{orbite}(x)$.

Si les vecteurs dans la séquence

$$\text{orbite}(v_1), \dots, \text{orbite}(v_k)$$

sont linéairement dépendant, alors

$$N^{n_{v_1}}(v_1), \dots, N^{n_{v_k}}(v_k)$$

sont linéairement dépendant.

VRAI FAUX

Question [TF-14]

Soit V un espace vectoriel de dimension $n < \infty$ sur un corps K de caractéristique $\neq 2$, muni d'une forme bilinéaire symétrique \langle, \rangle . Alors V possède une base orthogonale $\{v_1, \dots, v_n\}$ t.q.

$$\langle v_i, v_i \rangle \in \{1, -1, 0\} \text{ pour } i = 1, \dots, n.$$

VRAI FAUX

Question [TF-15] Soit $B = \{b_1, \dots, b_n\} \subset \mathbb{R}^n$ une base de \mathbb{R}^n . Considérons $\{b_1^*, \dots, b_n^*\} \subset \mathbb{R}^n$ le résultat du procédé de Gram-Schmidt sur B par rapport à un produit scalaire quelconque de \mathbb{R}^n induisant la norme $\|\cdot\|$.

Soit $j \in \{1, \dots, n-1\}$ et $C = \{c_1, \dots, c_n\} \subset \mathbb{R}^n$ t.q. $c_i = b_i$ pour tout $i \in \{1, \dots, n\} \setminus \{j, j+1\}$, $c_j = b_{j+1}$ et $c_{j+1} = b_j$. Considérons aussi $\{c_1^*, \dots, c_n^*\} \subset \mathbb{R}^n$ le résultat du procédé de Gram-Schmidt sur C .

Alors

$$\|b_j^*\| \cdot \|b_{j+1}^*\| = \|c_j^*\| \cdot \|c_{j+1}^*\|$$

VRAI FAUX

Question [TF-16] Soit $A \in \mathbb{Q}^{n \times n}$ une matrice symétrique. Toutes valeurs propres de A sont rationnelles.

VRAI FAUX

Troisième partie, questions de type ouvert

Répondre dans l'espace dédié. Votre réponse doit être soigneusement justifiée, toutes les étapes de votre raisonnement doivent figurer dans votre réponse. Laisser libres les cases à cocher : elles sont réservées au correcteur.

Question 23: Cette question est notée sur 10 points.

0 1 2 3 4 5 6 7 8 9 10

Soit F un corps. Pour $p(x) = a_0 + a_1x + \dots + a_nx^n \in F[x]$, sa dérivée est $p'(x) = a_1 + 2a_2x + \dots + n \cdot a_nx^{n-1} \in F[x]$.

- (a) Soit $p(x) \in F[x] \setminus 0$ irréductible. Montrer que $\gcd(p(x), p'(x)) = 1$.
- (b) Montrer pour $f(x), g(x) \in F[x]$ la formule

$$(f(x) \cdot g(x))' = f'(x) \cdot g(x) + f(x) \cdot g'(x).$$

Indice: Vous pouvez supposer $(\alpha \cdot f + \beta \cdot g)' = \alpha \cdot f' + \beta \cdot g'$ pour $\alpha, \beta \in K$ et $f, g \in K[x]$.

- (c) Soit $E \supseteq F$ un corps et $p(x) \in F[x] \setminus \{0\}$ irréductible. Montrer que $p(x)$ ne possède pas de racines $\alpha \in E$ de multiplicité d'au moins 2.
- (d) Soit $A \in \mathbb{Q}^{n \times n}$ tel que son polynôme caractéristique $p_A(x) \in \mathbb{Q}[x]$ est irréductible. Montrer qu'il existe $U \in \mathbb{C}^{n \times n}$ inversible et $\lambda_1, \dots, \lambda_n \in \mathbb{C}$ tels que

$$A = U \cdot \text{diag}(\lambda_1, \dots, \lambda_n) \cdot U^{-1}.$$

CATALOGUE

Question 24: Cette question est notée sur 10 points.

0
 1
 2
 3
 4
 5
 6
 7
 8
 9
 10

Soit $A \in \mathbb{R}^{n \times n}$ une matrice symétrique et soit

$$A = U \cdot \begin{pmatrix} \lambda_1 & & \\ & \ddots & \\ & & \lambda_n \end{pmatrix} U^T$$

une factorisation de A telle que $U = (u_1, \dots, u_n) \in \mathbb{R}^{n \times n}$ est orthogonale et $\lambda_1 \geq \dots \geq \lambda_n$. Pour $1 \leq \ell < n$ on a

$$\max_{\substack{x \in S^{n-1} \\ x \perp u_1, \dots, x \perp u_\ell}} x^T A x = \lambda_{\ell+1}$$

et $u_{\ell+1}$ est une solution optimale.

Question 25: Cette question est notée sur 10 points.

0
 1
 2
 3
 4
 5
 6
 7
 8
 9
 10

Dans cet exercice, on considère le produit scalaire standard de \mathbb{R}^n et la norme euclidienne correspondante. Soit $B \in \mathbb{Z}^{n \times n}$, $\text{rang}(B) = n$ et

$$B = (b_1^*, \dots, b_n^*) \cdot \begin{pmatrix} 1 & & \mu_{1j} \\ & \ddots & \\ & & 1 \end{pmatrix}$$

l'orthogonalisation Gram-Schmidt de B . Soit $\Lambda = \{Bx : x \in \mathbb{Z}^n\}$ le réseau entier engendré par B .

i) Soit $v = Bx \in \Lambda$, $x \in \mathbb{Z}^n$. Montrer $\|v\| \geq |x_n| \cdot \|b_n^*\|$.

ii) Montrer que pour $v \in \Lambda \setminus \{0\}$

$$\|v\| \geq \min_{1 \leq i \leq n} \|b_i^*\|.$$

iii) Le défaut d'orthogonalité de $B \in \mathbb{Z}^{n \times n}$ est la quantité

$$\gamma(B) = \frac{\prod_{i=1}^n \|b_i\|}{|\det(B)|}.$$

Soit $v = Bx \in \Lambda$, $x \in \mathbb{Z}^n$. Montrer, que s'il existe un index $i \in \{1, \dots, n\}$ t.q. $|x_i| > \gamma(B)$, alors

$$\|v\| > \min_{i=1, \dots, n} \|b_i\|.$$

